

Nom : _____ Prénom : _____ Date : _____

P₁₃

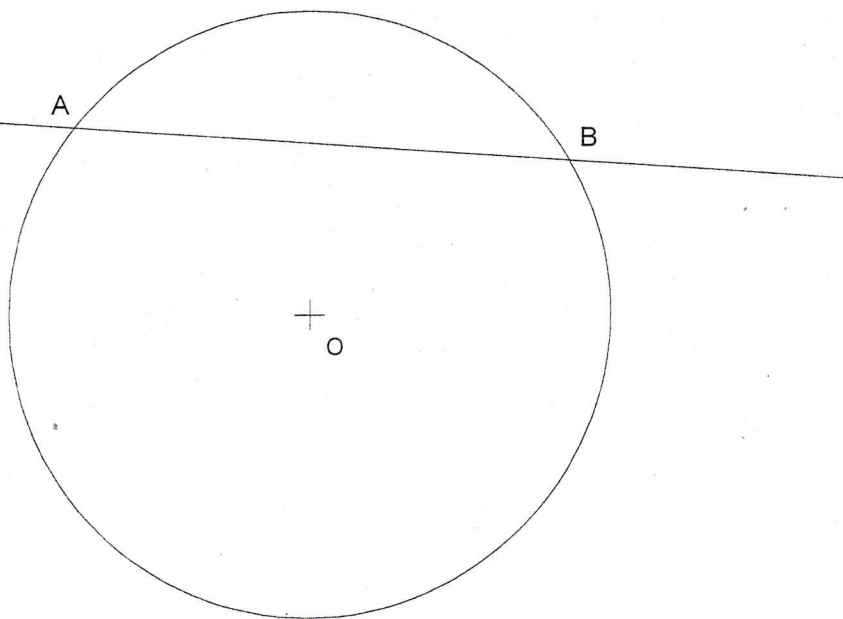
GEOMETRIE

1. On a commencé une figure. Mesure, en centimètres, la longueur du segment (AB).

Réponse : cm

2. Maintenant, tu vas compléter cette figure en suivant les indications :

- Trace la droite perpendiculaire à la droite (AB) qui passa par O.
- La droite que tu viens de tracer coupe la droite (AB) en I. Place I.
- Trace le cercle de centre I qui passe par A.



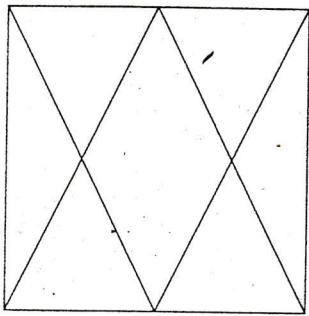
Reproduire une figure

CALCUL MENTAL
• Multiplier un multiple de 10
par 2, 3, 4.

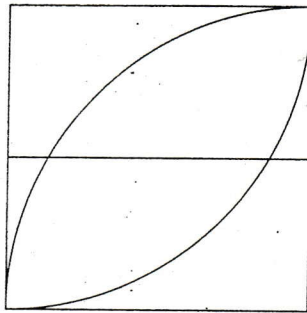
1 Observation et reproduction

- Vérifie que chacune des 6 figures est bien inscrite dans un carré de 4 cm de côté.
- Choisis deux figures et reproduis-les sur papier quadrillé.
- Choisis une autre figure et reproduis-la sur un papier non quadrillé.

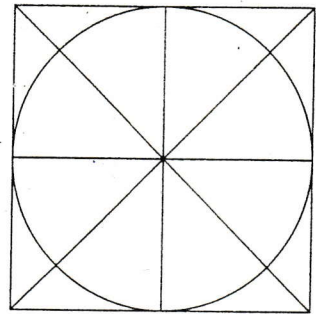
(a)



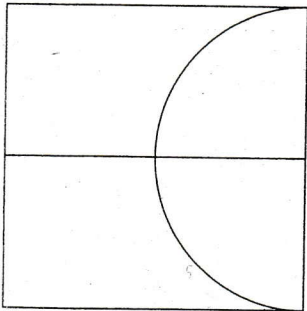
(b)



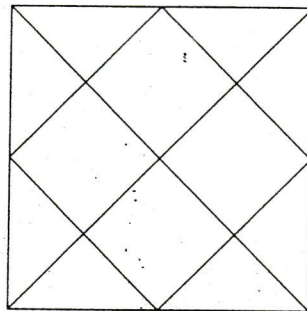
(c)



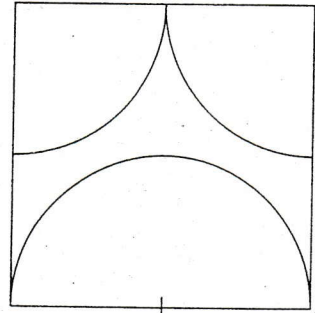
(d)



(e)



(f)



2 Reproduis les deux figures.

- Colorie les triangles en rouge, les quadrilatères en vert, les pentagones en bleu.
- Si ces figures ont des axes de symétrie, trace-les en orange.

